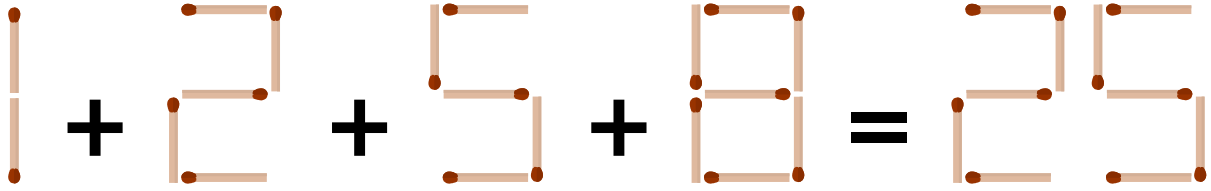
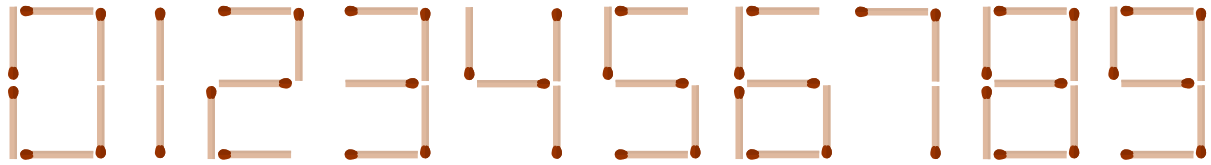


# GARE AU FEU !

Déplacez deux allumettes pour que l'opération soit correcte :

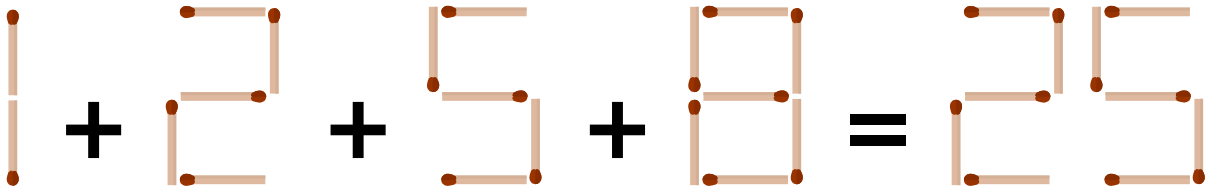

$$1 + 2 + 5 + 8 = 25$$

Pour éviter toute ambiguïté, voici les 10 chiffres formés avec des allumettes :



# GARE AU FEU !

Déplacez deux allumettes pour que l'opération soit correcte :


$$1 + 2 + 5 + 8 = 25$$

Pour éviter toute ambiguïté, voici les 10 chiffres formés avec des allumettes :

