


IL ÉTAIT UNE FOIS


Lors d'une fouille, des archéologues ont découvert des pièces d'argile utilisées pour représenter les quantités 1, 10, 60 et 600 :




Par exemple, l'ensemble ci-dessous correspond à la quantité 42 :



Pour représenter la quantité 200, les pièces suivantes étaient rassemblées :




D'après-vous, à quel nombre correspond l'ensemble de pièces ci-dessous ?



IL ÉTAIT UNE FOIS


Lors d'une fouille, des archéologues ont découvert des pièces d'argile utilisées pour représenter les quantités 1, 10, 60 et 600 :



Par exemple, l'ensemble ci-dessous correspond à la quantité 42 :



Pour représenter la quantité 200, les pièces suivantes étaient rassemblées :



D'après-vous, à quel nombre correspond l'ensemble de pièces ci-dessous ?

