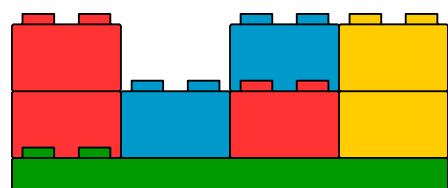


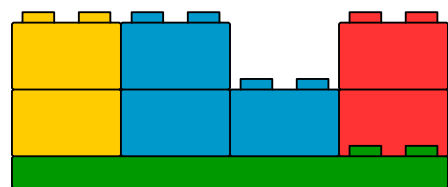
MYSTÈRE DUPLO ©

Jonathan a réalisé une construction en utilisant une plaque 4x8 verte et quelques briques 2x2 rouges, jaunes et bleues.

Voici sa construction lorsqu'on la regarde d'un certain côté :



La voici maintenant lorsqu'on l'observe du côté opposé :



Saurez-vous reproduire la construction de Jonathan ?

LA MAISON DU BONHEUR

Juliette décrit la maison qu'elle a fabriquée pour décorer son porte-manteau :

- Ma maison a 5 fenêtres ;
- Il n'y a pas de rideaux aux fenêtres ;
- La porte est située au milieu de la maison ;
- La cheminée est située à droite.

Parmi toutes ces maisons, quelle est celle de Juliette ?



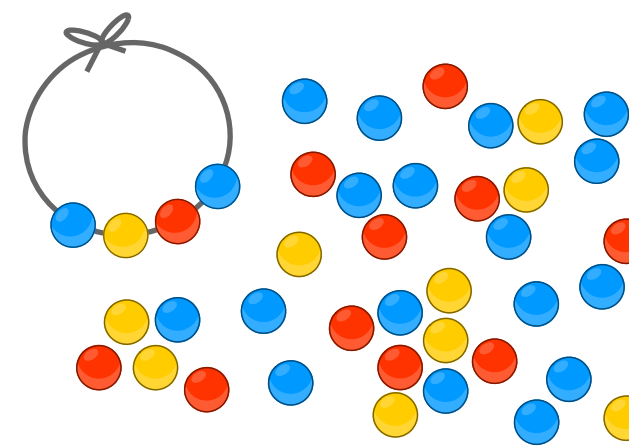
PERLES EN PAGAILLE

Manon décide de fabriquer le plus grand nombre possible de bracelets identiques au premier qu'elle a déjà réalisé.

Quand elle a terminé, elle constate qu'il lui reste quelques perles.

En tout, combien de colliers identiques Manon peut-elle confectionner ?


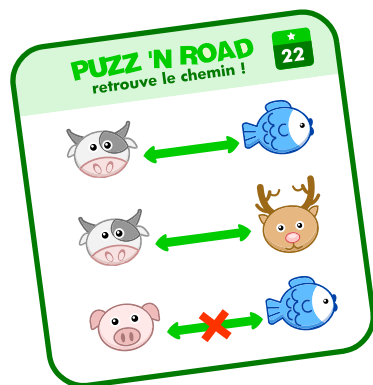
Fabriquez un bracelet avec les perles restantes.



PUZZ'N ROAD

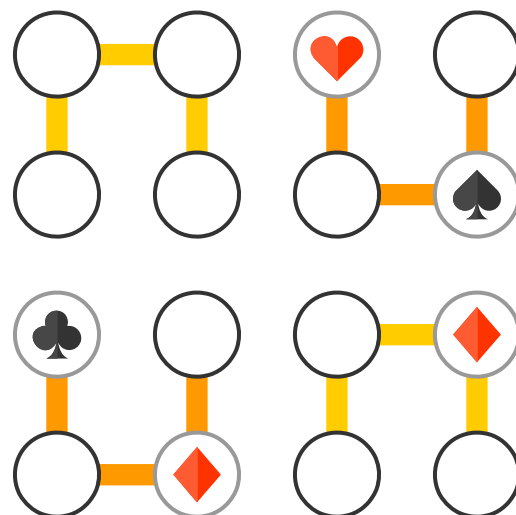
Disposez les neuf pièces sur le plateau de jeu de manière à ce que :

- toutes les règles du défi soient respectées,
- il n'y ait pas de voie sans issue.



STRIMKO

Placez les jetons sur le plateau de jeu de manière à ce que chacun des quatre symboles n'apparaisse qu'une et une seule fois par ligne, par colonne et par chaîne.



CHAT VA ?

Reconstituez la silhouette du chat à l'aide des 18 pièces triangulaires à votre disposition (4 triangles orange, 14 triangles jaunes).

